

# SUMSI MAGAZIN

**Sonder-  
ausgabe**

Das Kinder-  
Arbeitsheft von  
Raiffeisen



Begleite  
Sumsi auf ihren  
Abenteuern ...

Der richtige  
Umgang  
mit Geld

Jede Menge  
Rätselspaß

# HALLO KINDER



**Es ist gerade eine sehr herausfordernde Zeit für uns alle und besonders für euch Kinder. Alle sollen zu Hause bleiben, ihr könnt eure Freunde nicht treffen und dürft momentan nicht in die Schule.**

Aber es gibt auch eine gute Seite an dieser Situation: ihr könnt viel Zeit mit eurer Familie verbringen und habt wieder mehr Zeit zum Spielen, Basteln und Rätsel lösen. Damit ihr die Zeit gemeinsam gut überbrücken könnt, haben wir ein spannendes Arbeitsheft für euch zusammengestellt.

In dieser Ausgabe habt ihr die Gelegenheit mich bei meinen Abenteuern zu begleiten und könnt dabei noch einiges rund um das Thema Geld erfahren.

Rätsel, Rechenaufgaben, Bastelideen und Malvorlagen versüßen euch die Tage zu Hause!

Viel Spaß und bleibt gesund!

**Eure Sumsi**

## Impressum:

Die grundlegende Richtung des Sumsi Magazin ist, über Raiffeisen in Oberösterreich zu informieren. Medieninhaber, Herausgeber und Redaktion: Raiffeisenlandesbank Oberösterreich Aktiengesellschaft, Europaplatz 1a, 4020 Linz. Am Medieninhaber sind zu 98,92 % die Raiffeisenbankengruppe OÖ Verbund eGen und zu 1,08 % die RLB Holding eGen OÖ beteiligt. Nähere Details unter [www.rlbooe.at/impressum](http://www.rlbooe.at/impressum) | Vorstand: Schaller Heinrich, Dr.; Keplinger-Mitterlehner Michaela, Mag.; Sandberger Stefan, Mag.; Schwendtbauer Reinhard, Mag.; Vockenhuber Markus, Mag. | Grafische Gestaltung: upart Werbung und Kommunikation GmbH | Schillerstraße 10, 4020 Linz | Tel.: 0732/781147 | E-Mail: [letsgo@upart.at](mailto:letsgo@upart.at) | Hersteller/Druck: AV-Verlag, Sturzgasse 1A, 1140 Wien | Verlags- und Herstellungsort: 1140 Wien | Für unaufgefordert eingesandte Manuskripte und Fotos kann keine Haftung übernommen werden. Änderungen vorbehalten. Im Sinne einer verbesserten Lesbarkeit und eines verbesserten Verständnisses wird auf die geschlechterspezifische Formulierung verzichtet. Selbstverständlich sind Frauen und Männer gleichermaßen angesprochen.






EINLEITUNG .....	2
INHALT .....	3
FEHLERSUCHBILD .....	4
SUMSI HAT EINEN WUNSCH .....	5
HONIG-VERKAUF .....	6
DER EURO .....	7-9
SUMSI VERDIENT GELD .....	10-11
DENKSPORT .....	12-15
BASTELSPASS .....	16
RÄTSELSPASS .....	17
LÖSUNGEN .....	18-19
AUSMALBILD .....	20

### Sumsis INFO

Alle Lösungen  
zu den gestellten  
Aufgaben findet ihr  
auf Seite 18 + 19.

# Bei Sumsi stimmt etwas nicht!



## DIE AUFGABE

Schau dir die Bilder genau an, beim unteren Bild haben sich 5 Fehler eingeschlichen. Finde die Fehler und kreuze sie an.





# Wünsch dir was!

**Sumsi hat einen großen Wunsch. Sie möchte ein Fahrrad haben. Ein Fahrrad kostet aber Geld. Wie kann Sumsi zu Geld kommen?**

Sumsi kann entweder das Geld geschenkt bekommen oder sie kann das Geld durch Arbeit verdienen. Sie überlegt, ihren Honig zu verkaufen.



## DIE AUFGABE

Was wünschst du dir?  
Was möchtest du dir kaufen?  
Überlege, welche Wünsche  
du hast, und schreibe  
oder zeichne sie in die  
Denkblase.



# Am Markt

Sumsi möchte sich bald das Fahrrad kaufen.



Sie beschließt, ihren Honig am Markt zu verkaufen. Dafür bekommt sie Geld.



Idee von Sumsi  
Ein Glas  
Honig:  
3,- Euro



## DIE AUFGABE

Wie viele Gläser Honig muss Sumsi verkaufen, damit sie sich ein Fahrrad um 303,- Euro kaufen kann?



# Weißt du eigentlich, wie unser Geld entstanden ist?

**Sumsis  
INFO**

Der Inhalt dieser Seite wird dir von Education Group präsentiert.



In der Steinzeit lebten die Menschen in kleinen Gemeinschaften. Jeder hatte eine bestimmte Aufgabe. So war z. B. einer ein guter Töpfer und ein anderer Bäcker. Wenn nun einmal ein Töpfer Brot benötigte oder ein Bäcker Geschirr, so wurde getauscht.

Als die Dörfer immer größer wurden, wurde es immer schwieriger zu tauschen. Daher wurde mit verschiedenen Dingen getauscht, die gerade als sehr wertvoll galten. Säcke voller Zucker oder Salz, Fische oder Felle wurden getauscht.

Eine große Veränderung brachten Kupfer, Bronze und Eisen. Nicht nur Werkzeuge wurden daraus hergestellt,

sondern auch die ersten Münzen, die es in allen verschiedenen Formen gab:

Stäbe, Reifen, Ringe ... Um Ware zu bezahlen, wurde davon immer ein Stück abgebrochen und gewogen – das Gewicht bestimmte den Wert! Die ersten richtigen Münzen waren einheitlich rund und flach. Darauf waren Bilder, so wie du sie heute auf den Münzen entdecken kannst.

Das Papiergeld wurde aus praktischen Gründen erfunden: Münzen sind schwer! Stell dir vor, du müsstest 2.000 Münzen tragen! Heute haben wir wie viele andere Länder in Europa den Euro, der den Schilling in Österreich ablöste. Früher gab es bei uns z. B. auch Mark, Krone und Taler.

**DIE  
AUFGABE**  
Beantworte folgende Fragen. Du findest die Antworten im Text darüber.



**1. WAS WURDE VOR DEM PAPIERGELD UND DEN MÜNZEN ZUR ZAHLUNG VERWENDET?**



**Antwort:** .....



**2. WIE HABEN DIE ERSTEN MÜNZEN AUSGESEHEN?**



**Antwort:** .....



**3. AUS WELCHEM GRUND WURDE DAS PAPIERGELD EINGEFÜHRT?**



**Antwort:** .....



# Unsere Währung in Österreich

## Sumsis INFO

Es gibt 8 Euromünzen  
und zusätzlich  
6 Euroscheine.






# Banknoten – echt oder falsch?

**Doch wie weißt du, ob deine Geldscheine auch wirklich echt sind? Alle Eurobanknoten enthalten verschiedenen Sicherheitsmerkmale als Fälschungsschutz.**

Die Echtheit einer Eurobanknote lässt sich mit dem Test „SEHEN – FÜHLEN – KIPPEN“ ganz einfach überprüfen. Anna, Philipp und Alex erklären dir, worauf du dabei achten musst.



**Beschaffenheit  
des Papiers**

**Wasserzeichen**

**Hologramm**

**Porträt-Fenster**

**Anna:** „Man muss nur 3 Dinge überprüfen: Zuerst prüft man, wie sich der Geldschein anfühlt. Er muss griffig sein und an manchen Stellen dicker. Als Nächstes hält man ihn gegen das Licht und betrachtet das Wasserzeichen. Und schließlich kippt man den Schein und prüft, wie sich das Hologramm und die Smaragd-Zahl im Licht verändern.“

**Alex:** „Mensch, Anna, wir verstehen nur Bahnhof! Kannst du das nicht einfacher erklären?“

**Anna:** „Schaut mal genau auf das Wasserzeichen! Wenn man einen neuen Euroschein gegen das Licht hält, kann man die Prinzessin Europa erkennen. Das ist eine Prinzessin aus der griechischen Mythologie. Unser Erdteil ist nach ihr benannt. Sie ist auf allen neuen Eurogeldscheinen im Wasserzeichen und im Hologramm zu sehen.“

**Alex und Philipp:** „Hologramm? Jetzt blicke ich gar nicht mehr durch!“



**Anna:** „Habt ihr den silbrig glänzenden Folienstreifen auf dem Geldschein gesehen? Das ist das Hologramm. Wenn man den Schein kippt, verändern sich die Bilder. Und achtet mal auf den oberen Teil des Hologramms.“

**Alex:** „Wow! Das wird durchsichtig. Es sieht aus wie ein Fenster und man sieht die Europa darin.“

**Philipp:** „Was ist das für eine glänzende Zahl links unten? Da bewegt sich ein Lichtbalken, wenn man den Schein kippt.“

**Anna:** „Das ist die Smaragd-Zahl, ein weiteres Merkmal, das die Eurogeldscheine sicher macht und leicht zu prüfen ist.“



# Richtig bezahlen

Sandra kauft bei Sumsi 5 große Gläser Honig. 1 Glas kostet 3,- Euro. Zeige Sumsi, wie viel Geld sie bekommt und welches Geld sie annehmen darf. Kreuze die richtigen Scheine und Münzen an.



Sandra gibt Sumsi einen 50-Euro-Schein.  
Wie viel bekommt Sandra von Sumsi zurück?

$$5 \cdot 3 = \underline{\quad \text{Euro} \quad}$$

$$50 - \dots\dots\dots = \underline{\quad \text{Euro} \quad}$$

Antwort: .....

Sumsi verkauft ihren Honig auf dem Markt.  
Wie viel Geld verdient Sumsi täglich?

Montag: 7 Gläser  $7 \cdot 3 = \underline{\quad \text{Euro} \quad}$

Dienstag: 10 Gläser  $10 \cdot 3 = \underline{\quad \text{Euro} \quad}$

Mittwoch: 13 Gläser  $13 \cdot 3 = \underline{\quad \text{Euro} \quad}$

Donnerstag: 12 Gläser  $12 \cdot 3 = \underline{\quad \text{Euro} \quad}$

Freitag: 17 Gläser  $17 \cdot 3 = \underline{\quad \text{Euro} \quad}$

Wie viel hat Sumsi in der Woche verdient?

Montag:            Euro

Dienstag:            Euro

Mittwoch:            Euro

Donnerstag:            Euro

Freitag:            Euro

           Euro

Antwort: .....





# Was passiert mit Sumsis Geld?

Am Markt hat Sumsi viele Gläser verkauft. Sie hat in ihrer Geldtasche nun 65,- Euro. Sumsi möchte sich bald ein Fahrrad kaufen.


Ein Fahrrad kostet viel Geld, darum legt Sumsi nach jedem Markt Geld auf ihr Sumsi-Sparbuch. Dieses Mal legt Sumsi 50,- Euro auf ihr Sumsi-Sparbuch.



Sumsi hat ein Sparbuch von der Raiffeisenbank. Dort zahlt sie ihr Geld ein. Dafür bekommt Sumsi Zinsen von der Raiffeisenbank. Das Geld wird dadurch mehr.

**Zinsen:** Wenn du Geld auf dein Sparbuch legst, bekommst du am Ende eines Jahres Geld von der Bank, weil du so brav gespart hast. Wenn du dir Geld borgst, musst du der Bank etwas Extra-Geld zurückgeben, dass ist die Gebühr für das Ausleihen des Geldes.

Die Raiffeisenbank legt aber nicht das ganze Geld in den Tresor. Sie leiht es Menschen, die sich z. B. ein Haus kaufen möchten. Pünktchen, der Marienkäfer, hat sich bei der Raiffeisenbank Geld ausborgt, damit er sich ein Haus kaufen kann. Er zahlt dafür der Raiffeisenbank Zinsen.





# Sumsi geht essen

Das Verkaufen von Honig am Markt war sehr anstrengend.  
Sumsi will sich etwas zu essen kaufen. Sie hat noch  
11,- Euro übrig.

## DIE AUFGABE

Welche Hauptspeise darf  
Sumsi wählen, wenn sie  
später auch noch ein  
Stück Kuchen haben  
möchte? Kreuze die  
richtige Speise an.

### SPEISEKARTE

## Hauptspeisen

- 1 Schnitzelteller** ..... 10,- Euro  
Frittatensuppe, Schnitzel mit Pommes und 1 Getränk
- 2 Nudeltiger** ..... 8,- Euro  
Nudelsuppe, Spaghetti und 1 Getränk
- 3 Garfield Spezialmenü** ..... 9,- Euro  
Pizza und Cola

## Nachspeisen

- 4 Apfelstrudel** ..... 3,- Euro  
hausgemacht mit Vanillesoße
- 5 Schokoladekuchen** ..... 3,- Euro  
hausgemacht

## DIE AUFGABE

Wie verändert sich  
die Wahl, wenn Sumsi ...  
a) 10,- Euro  
b) 12,- Euro  
c) 13,- Euro  
d) 14,- Euro  
zur Verfügung hat?

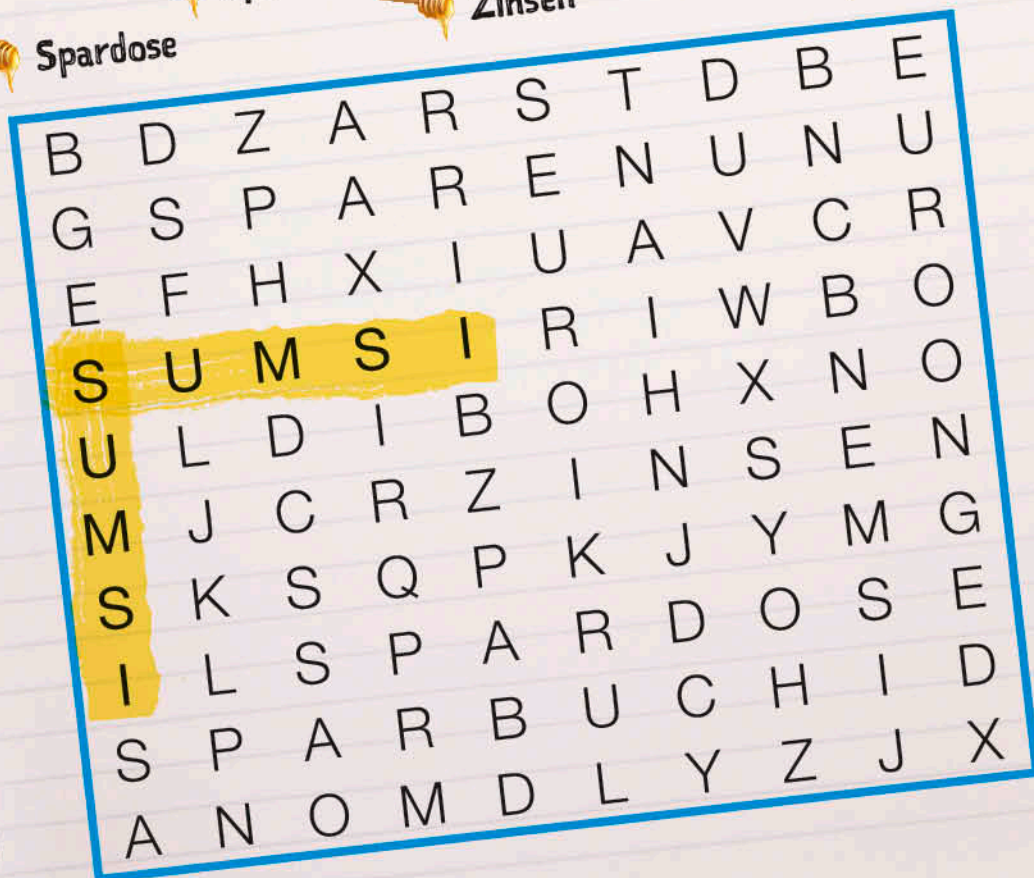




# Hilf Sumsi, das Rätsel zu lösen!

Sumsi hat 5 Wörter zum Thema Geld und Sparen in diesem Rätsel versteckt. Die Wörter können waagrecht oder senkrecht geschrieben sein, wie du unten am Beispielwort SUMSI erkennen kannst. Versuche, folgende Wörter zu finden:

Spardose    
 Sparbuch    
 Zinsen    
 Sparen    
 Euro





## Hilf Sumsi, den richtigen Weg zu finden!


Hilf bitte Sumsi, den richtigen Weg zu finden. Sie hat den Wunsch, sich ein Fahrrad zu kaufen. Zeig ihr den Weg durch das Labyrinth zum richtigen Ziel.

 Hier gehts los!





# Zeig Sumsi die gültigen Euro- münzen und -scheine!





# Bechertelefon

„Antonia! Telefon!“, ruft Papa. Antonia stürmt die Treppe runter, wo Papa schon auf sie wartet und ihr sein Handy hinhält.

„Hallo?“, sagt Antonia fragend. Am anderen Ende ist Antonias Oma, die sich erkundigt, wie es ihr so geht und was sie den ganzen Tag so treibt. Kurze Zeit später machen es sich Antonia und ihr Bruder Thomas im Wohnzimmer gemütlich. Da kommt Mama rein und hält den beiden zwei leere Joghurtbecher hin: „Wollt ihr damit vielleicht was basteln, bevor ich sie wegwerfe?“ Warum eigentlich nicht? Doch was? Die beiden überlegen hin und her, was sie jetzt mit diesen beiden Bechern machen könnten. „Ha! Ich weiß was! Wir könnten uns eigene Telefone bauen! Das funktioniert wirklich!“, ruft Antonia begeistert. Skeptisch schaut Thomas die Becher in ihrer Hand an.



## Sumsis INFO

Der Inhalt dieser Seite wird dir von Education Group präsentiert.



## Sumsis INFO

Achtet darauf, dass die Schnur immer gespannt ist!

### DAZU BRAUCHST DU:

-  1 Stecknadel
-  1 Stück Garn (ca. 5 m)
-  2 Holzstäbchen
-  2 Joghurtbecher

### SO WIRD'S GEMACHT:

1. Macht in den Boden von beiden Bechern ein Loch.
2. Zieht den Faden mit der Stecknadel durch.
3. Bindet die Holzstäbchen fest, sodass der Faden nicht mehr durchrutscht.
4. Nun bekommt jeder einen Becher.
5. Geht auseinander, bis sich der Faden spannt.
6. Jetzt könnt ihr telefonieren!

Wie soll denn das funktionieren?





# Heute fühl ich mich ...

Oft durchlebt man an einem Tag eine Achterbahn der Gefühle. Manchmal stehst du in der Früh auf, fühlst dich gut und bist fröhlich. 5 Minuten später bist du verärgert, weil jemand dein Lieblingsjoghurt aufgegessen hat.

Stimmungen wechseln oft innerhalb von wenigen Sekunden. Wie wir uns gerade fühlen, zeigen wir hauptsächlich durch unseren Gesichtsausdruck

und unsere Körpersprache.

Das ist wichtig, denn so können andere Menschen leichter erkennen, wie es in uns drinnen aussieht, und angemessen reagieren. Wenn du jemandem eine Textnachricht schreibst, kannst du mit Hilfe von Emoticons deine Gefühle mitteilen. Bist du ein guter Gefühle-Leser und kannst alle Gesichtsausdrücke richtig deuten?

**Sumsis  
INFO**

Der Inhalt dieser Seite wird dir von Education Group präsentiert.







Seite 4:

Bei Sumsi stimmt etwas nicht!



Seite 5:

Wünsch dir was!

**Meine Wünsche:**

z. B. Taschengeld, gute Schulnoten ...

**Was ich mir kaufen möchte:**

Fahrrad, Handy, Spiel, Puppe, Buch ...



Seite 6:

Am Markt

Sumsi muss **101 Gläser** Honig verkaufen um sich ein Fahrrad kaufen zu können.



Seite 7:

**Weißt du eigentlich, wie unser Geld entstanden ist?**

1. **Antwort:** Früher wurden Waren getauscht.
2. **Antwort:** Die Münzen waren rund und flach.
3. **Antwort:** Das Papiergeld wurde aus praktischen Gründen eingeführt. Münzen waren und sind schwer, zudem ist das Zählen bei hohen Beträgen sehr aufwendig.



Seite 10:

Richtig bezahlen



$$5 \cdot 3 = 15 \text{ Euro}$$

$$50 - 15 = 35 \text{ Euro}$$

**Antwort:** Sandra bekommt 35,- Euro zurück.

Montag: 7 Gläser

$$7 \cdot 3 = 21 \text{ Euro}$$

Dienstag: 10 Gläser

$$10 \cdot 3 = 30 \text{ Euro}$$

Mittwoch: 13 Gläser

$$13 \cdot 3 = 39 \text{ Euro}$$

Donnerstag: 12 Gläser

$$12 \cdot 3 = 36 \text{ Euro}$$

Freitag: 17 Gläser

$$17 \cdot 3 = 51 \text{ Euro}$$

**Summe:** 177 Euro

**Antwort:** Sumsi hat in der ganzen Woche 177,- Euro verdient.





### Seite 12: Sumsi geht essen

1) Sumsi darf nicht mehr Geld ausgeben, als sie hat:

Verfügbar: 11 Euro – Kuchen: 3 Euro, Rest: 8 Euro  
Sumsi darf nur Hauptspeise 2 wählen!

2 a)  $10 - 3 = 7$  Euro, nur Nachspeise

2 b)  $12 - 3 = 9$  Euro, Hauptspeise 2 oder 3

2 c)  $13 - 3 = 10$  Euro, Hauptspeise 1, 2 oder 3

2 d)  $14 - 3 = 11$  Euro, Hauptspeise 1, 2 oder 3



### Seite 13: Hilf Sumsi, das Rätsel zu lösen!



### Seite 14: Hilf Sumsi, den richtigen Weg zu finden!



### Seite 15: Zeig Sumsi die gültigen Euromünzen und -scheine!



### Seite 16: Bechertelefon

**Warum ist das so?** Wenn du in den Becher sprichst, bringst du dadurch die Luft im Becher zum Schwingen. Der Boden deines Bechers schwingt dadurch auch mit. Die Schwingung des Bodens überträgt sich auf den Faden. Das Ohr nimmt diese Schwingungen wahr und leitet sie ans Gehirn weiter. Dort werden die Schwingungen in Wörter umgewandelt.



### Seite 17: Heute fühle ich mich ...





# Sumsis Malspaß

Sumsi wünscht dir viel Freude  
beim Ausmalen!



## Sumsi-Club-Vorteil

Erlebe weitere Abenteuer mit deiner  
kostenlosen Sumsi-Karte:

-  Sumsi-Magazin direkt zu dir nach Hause
-  tolle Gewinnspiele auf [www.raiffeisenclub-ooe.at/sumsi](http://www.raiffeisenclub-ooe.at/sumsi)
-  Ermäßigungen bei vielen Einkaufs- und Freizeitbetrieben

Alle Infos und weitere Ermäßigungen gibts auf  
[raiffeisen.at/sumsi](http://raiffeisen.at/sumsi)

